

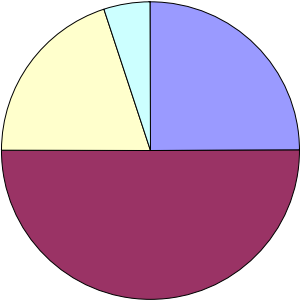
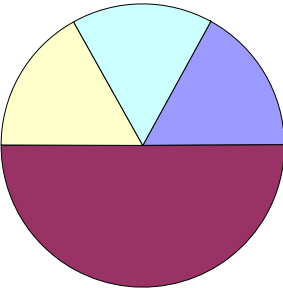






9	 <div data-bbox="699 264 1129 427" style="border: 1px solid black; padding: 5px; margin-left: 20px;"> <p>Sommerschlussverkauf 20% Rabatt auf alle Waren</p> </div> <p>Welche 2 Aussagen sind richtig?</p> <ul style="list-style-type: none"> <li><input type="radio"/> Das T-Shirt kostet noch 16 €.</li> <li><input checked="" type="radio"/> Das T-Shirt wird um 16 € billiger.</li> <li><input type="radio"/> Das T-Shirt wird um 64 € billiger.</li> <li><input type="radio"/> Das T-Shirt kostet noch 60 €.</li> <li><input checked="" type="radio"/> Das T-Shirt kostet noch 64 €.</li> </ul>	/2           H3
10	<p>David hat in der Matheschularbeit 21 von 30 Punkten. Seine Schwester Sarah erreichte in der Englischscharbeit 36 von 60 Punkten. Beide behaupten, dass sie besser sind als der andere. Wer hat Recht? Begründe deine Entscheidung.</p> <p>David: <math>21 : 30 = 0,7 = 70\%</math>  Sarah: <math>36 : 60 = 0,6 = 60\%</math>  David ist besser, weil er mehr Prozent erreicht hat.</p>	/1           H4
11	<p>Stelle die folgende Prozentwerte in einem Prozentstreifen dar. 20 %, 45 %, 8 %</p> 	/1           H2
12	<p>Welcher Prozentkreis stellt die Prozentsätze richtig dar? Begründe deine Entscheidung.</p> <p>50%, 25%, 5%, 20%</p> <div style="display: flex; justify-content: space-around; align-items: center;"> <div data-bbox="256 1429 694 1727" style="text-align: center;"> <p>a)</p>  </div> <div data-bbox="767 1429 1110 1715" style="text-align: center;"> <p>b)</p>  </div> </div> <p>Begründung: a) ist richtig. 25 % ist genau ein Viertel und das kommt bei b) nicht vor.</p>	/1           H4

