

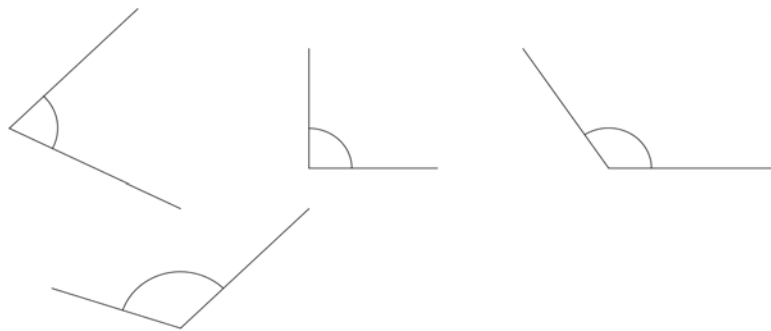
## Winkel

## Lernstandserhebung

5. Schulstufe

### Was ich schon alles kann

Kannst du diese Zeichnungen mit einem gemeinsamen Namen benennen?



Was ist ein rechter Winkel? Kannst du einen zeichnen?

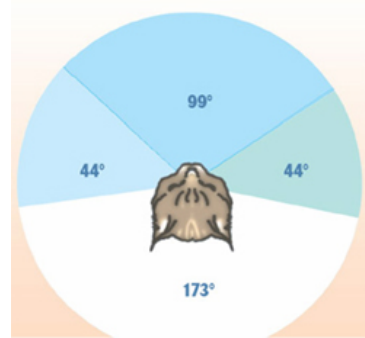
Findest du in der Klasse rechte Winkel? Zeichne eine Skizze in dein Heft und kennzeichne die rechten Winkel mit Farbe.

Geh in den Schulhof.

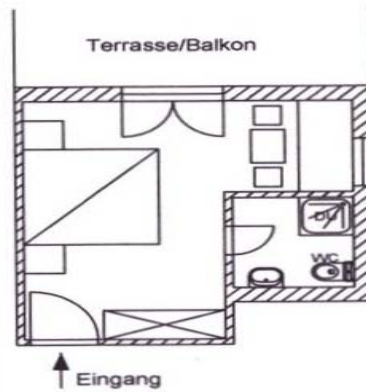
Findest du dort verschiedene Winkel? Zeichne Skizzen auf dein Arbeitsblatt.

Was haben diese Bilder mit Winkeln zu tun?

Schreib deine Beobachtungen auf.



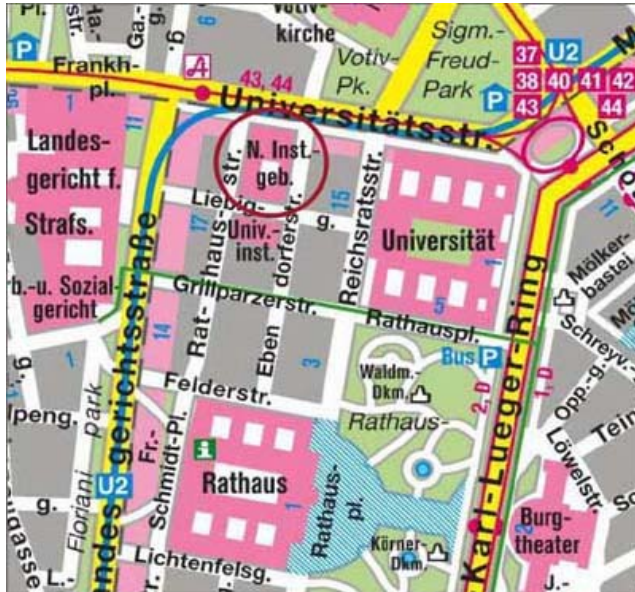
Kannst du auch hier Winkel erkennen? Wenn ja, markiere sie mit Farbe.



Beschreib den Weg

vom Rathausplatz zum Landesgericht.

vom Burgtheater zum Votivpark.



Wie groß schätzt du diesen Winkel? Welche Überlegung stellst du dabei an?

